


2012年度 第3問 問4

問4 次の図3中のカ〜クは、ヨーロッパにおける宗教の分布図から、異なる三つの範囲を切り取って示したものである。範囲カ〜クの位置は、下の図4中のA〜Cのいずれかである。A〜Cとカ〜クとの正しい組合せを、下の①〜⑥のうちから一つ選べ。 16



Atlas du 21^e siècle により作成。

図 3

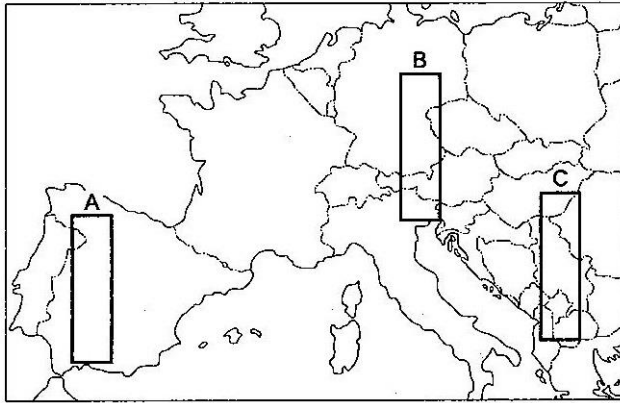


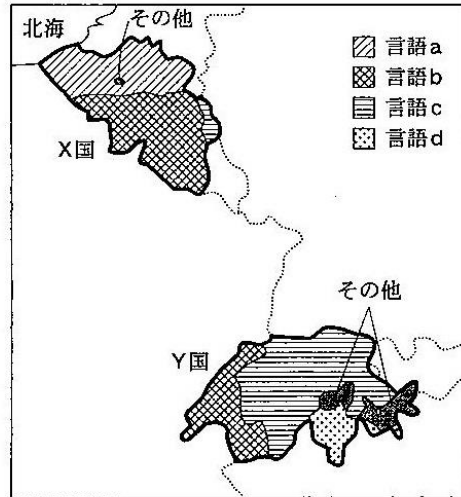
図 4

	①	②	③	④	⑤	⑥
A	カ	カ	キ	キ	ク	ク
B	キ	ク	カ	ク	カ	キ
C	ク	キ	ク	カ	キ	カ

2010年度 第5問 問5

問5 次の図3は、図1中のX国とY国における言語による地域区分を示したものである。X国とY国の言語にかかわる特徴について説明した下の文章中の空欄タとチに当てはまる語の正しい組合せを、下の①～④のうちから一つ選べ。

29



点線と太線は国境を示している。
Statesman's Yearbook などにより作成。

図 3

言語aとcはともに(タ)語派に属し、言語bとdはともにラテン語派に属する。X国とY国とは、国内で複数の言語が用いられている点で共通している。Y国では公用語を(チ)制定している。

- ① ターゲルマン チー一 つ
- ② ターゲルマン チー複 数
- ③ タースラブ チー一 つ
- ④ タースラブ チー複 数